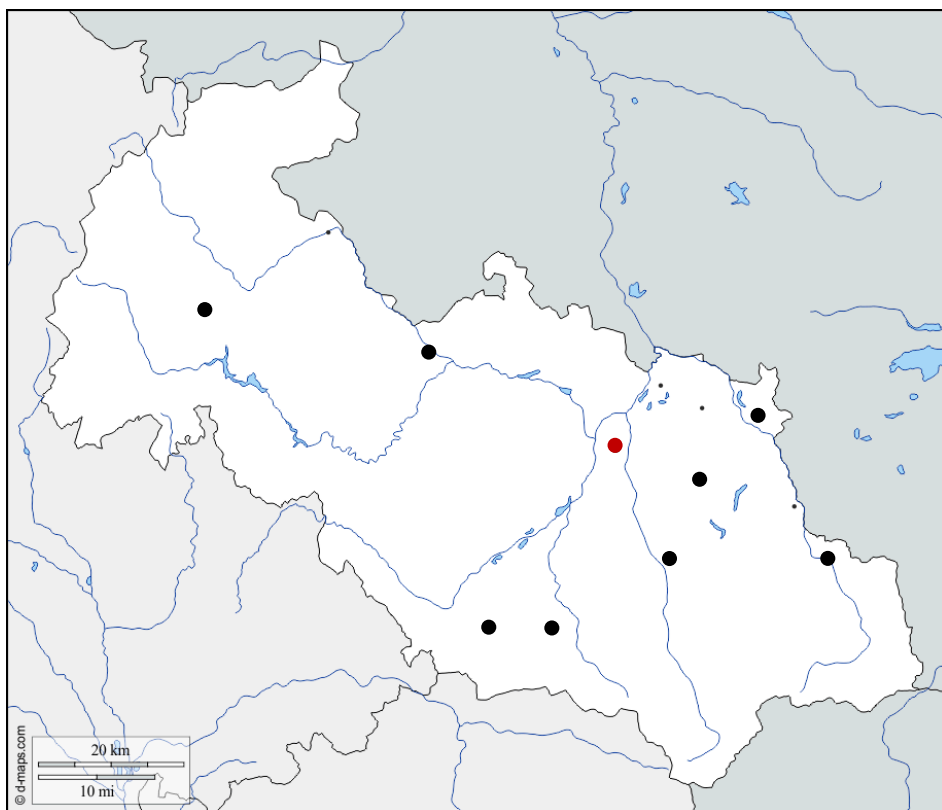


Pracovní list – Moravskoslezský kraj

Zakresli do slepé mapy (pište pouze čísla):



pohoří

1. Hrubý Jeseník
2. Nízký Jeseník
3. Oderské vrchy
4. Moravská brána
5. Moravskoslezské Beskydy
6. Ostravsko – karvinská pánev

řeky

7. Odra
8. Opava
9. Olše
10. Ostravice
11. Moravice

nádrže

12. Slezská Harta
13. Kružberk
14. Šance

ochrana přírody - CHKO

15. Beskydy
16. Jeseníky
17. Poodří

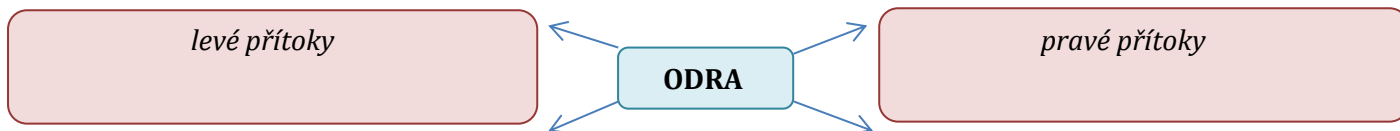
města

- | | | | | |
|-------------|-------------|----------------|---------------------|-----------|
| 18. Ostrava | 19. Havířov | 20. Karviná | 21. Frýdek – Místek | 22. Opava |
| 23. Třinec | 24. Bruntál | 25. Kopřivnice | 26. Nový Jičín | |

Se kterými kraji a státy Moravskoslezský kraj sousedí?

Územím kraje prochází rozvodí úmoří Baltského moře. Rozděli řeky podle toho, jestli jsou pravé nebo levé přítoky řeky Odry.

Opava, Moravice, Ostravice, Olše



Vylušti přesmyčky.

RA O D
R A C E V I M O
Š E O L

A V O P A
R A V I O S T C E
L É T A S B K E O Ŕ M

Doplň text.

železářny, Beskydy, černouhelné doly, nejprůmyslovější, životní prostředí, hutě, strojířny

Moravskoslezský kraj patří k oblastem našeho státu. Na Ostravsku najdeme největší, mohutné a i velké To se projevuje na, které je těžbou a průmyslem značně poškozeno. Pravým opakem jsou horské stráně nabízející relaxaci v krásné přírodě.

Urči správnost tvrzení – označ **pravdivé zeleně, **nepravdivé červeně** a oprav jej.**

- Moravskoslezský kraj sousedí se Slovenskem a Polskem.
- Řeka Opava je pravostranným přítokem Odry.
- Řeka Odra pramení v Nížkém Jeseníku.
- Nejvýše položeným místem Nížkého Jeseníku je Sovinec.
- Moravskoslezský kraj je rozlohou větší než Pardubický kraj.
- V Ostravsko-karvinské pánvi se těží hnědé uhlí.
- Řeka Odra patří k úmoří Černého moře.
- Rychlé spojení s Evropou zajišťuje letiště v Kopřivnici.
- Nejvyšším vrcholem kraje je Praděd v Hrubém Jeseníku.
- Na území Moravskoslezského kraje se nachází nejzápadnější místo ČR.

Podle popisu urči známá místa v kraji.

A. Ostrava



B. Lysá hora



C. Karlova Studánka



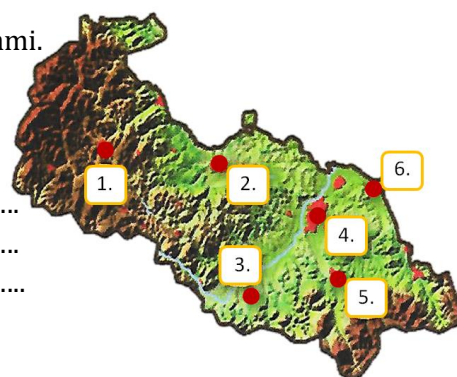
D. hrad Sovinec



- Nejvyšší hora Moravskoslezských Beskyd.
- Hrad v Nížkém Jeseníku, kdysi významná pevnost Husitů.
- Krajské město, městská radnice ve tvaru těžní věže.
- Lázně v Hrubém Jeseníku s původními dřevěnými lázeňskými budovami.

Napiš názvy měst podle polohy na mapě.

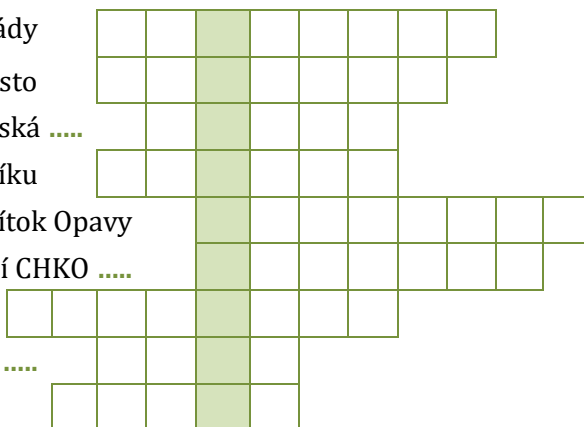
- 1)
- 2)
- 3)
- 4)
- 5)
- 6)



Vylušti tajenku týkající se Moravskoslezského kraje.



- národní přírodní rezervace - vodopády
- krajské město
- vněkarpatská sníženina Moravská
- nejvyšší hora Hrubého Jeseníku
- pravostranný přítok Opavy
- na JV kraje se nachází CHKO
- nejvyšší vrchol Nížkého Jeseníku
- území kraje náleží k povodí řeky
- jeskyně proslulá nálezem neandrtálského člověka



Město (tajenka) se nachází v předhůří Beskyd. Dominantou města je stejnojmenný hrad s gotickou věží Trúba o výšce 40 metrů průměru 9 metrů, která slouží od roku 1903 jako rozhledna. Místní cukrářskou specialitou jsou perníkové Štramberké uši.