

Pracovní list – Švýcarsko, Lichtenštejnsko

Doplň údaje, které jsou na slepé mapě označeny písmeny nebo čísly:

povrch

A.

B.

města

1.

2.

3.

řeky

a)

b)

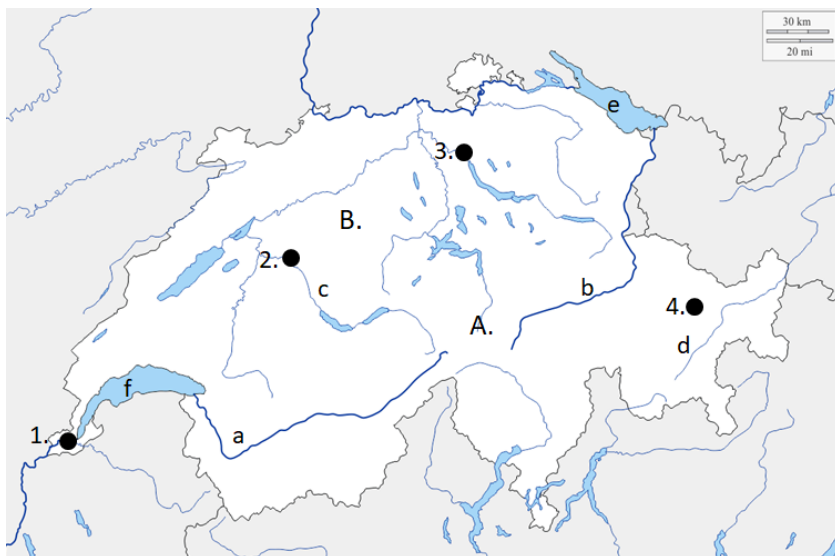
c)

d)

jezera

e)

f)



Napiš názvy států, se kterými Švýcarsko sousedí.

S jakým státem, kromě Švýcarska, sousedí Lichtenštejnsko?

Švýcarsko a Lichtenštejnsko je přímořský - vnitrozemský stát (chybnou možnost škrtni).

Doplň text:

Povrch Švýcarska je hornatý, většinu území zabírají []. Ve Švýcarsku pramení významné řeky [] a []. Hlavním městem je []. Největším městem je []. Švýcarsko i Lichtenštejnsko jsou [] státy – nejsou členy ani EU ani NATO. Hlavním městem Lichtenštejnska je []. Státním zřízením je [].

Určete správnost tvrzení – označ pravdivé ● nepravdivé ● a opravte jej.

- Švýcarsko sousedí na západě s Lichtenštejnskem.
- Lichtenštejnsko je tzv. enkláva – stát ve státě.
- Ve Švýcarsku pramení řeka Rhône.
- Hraniční řekou mezi Švýcarskem, Rakouskem a Německem je řeka Rýn.
- Většinu území Švýcarska zabírají Andy.
- Hospodářským centrem Švýcarska je oblast Švýcarské plošiny.
- Hlavou státu je v Lichtenštejnsku král.
- Lichtenštejnsko je členem EU a NATO.
- Řeka Rýn ústí do Černého moře.

Pracovní list – Maďarsko

Doplň údaje, které jsou na slepé mapě označeny písmeny nebo čísly:

povrch

A.

B.

C.

města

1.

2.

řeky

a)

b)

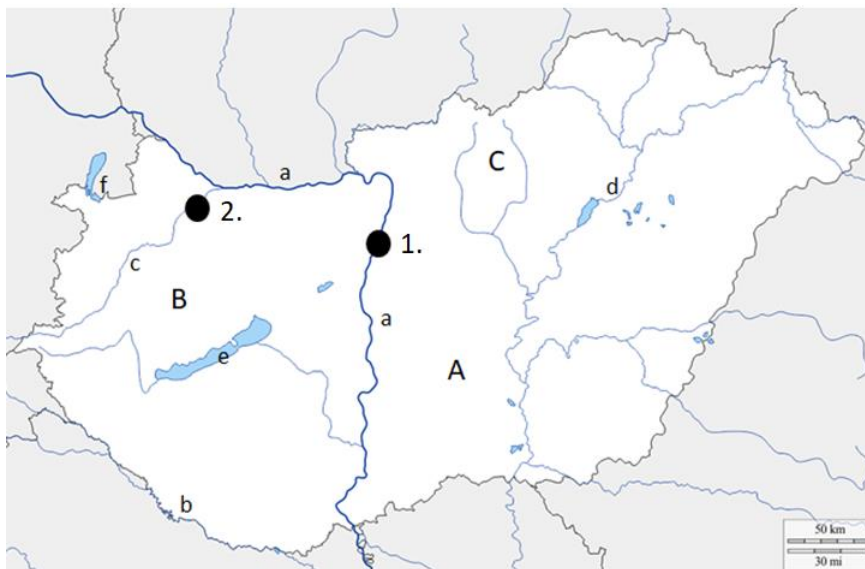
c)

d)

jezera

e)

f)



Napiš názvy států, se kterými Maďarsko sousedí.

Maďarská nejen kuchyně – přiřaď k pojmům správný obrázek.

segedín

čardáš

uherák

čabajka

feferonka

tokajské ...

f)



a)



b)



c)



d)



e)

Vylušti křížovku

Velké město na severovýchodě Maďarska.

Hraniční řeka Maďarska a Chorvatska.

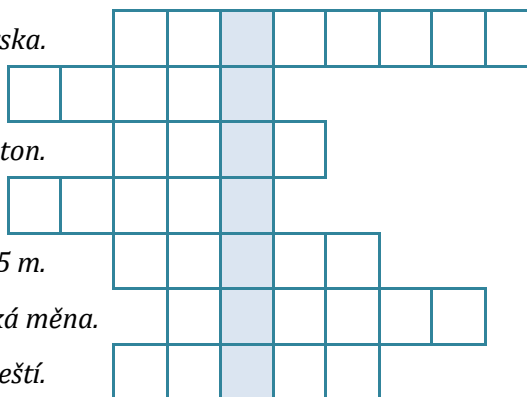
Hlavní přítok jezera Balaton.

Maďarský název pro step.

Největší maďarské pohoří – 1 015 m.

Maďarská měna.

Řeka protékající Budapeští.



Tajenka: Jezero je 78 km dlouhé, průměrná hloubka je 3 m, největší 11m. I díky tomu se jezero dobře v létě prohřívá a jeho teplota dosahuje 28°C. Tímto jezerem je